

2015年度 B日程 社会 その1

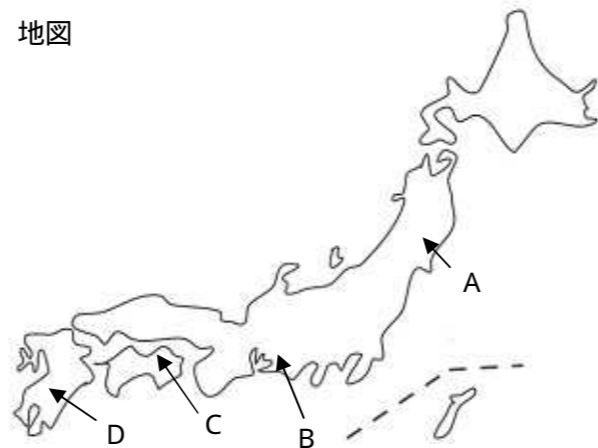
問 次のI子さんと先生の対話文を読んで、以下の設問に答えなさい。

先生：今年は、弘法大師が高野山を開いて1200年目にあたる年ですが、知っていますか。
 I子：弘法大師って、確か空海さんですね。日本の仏教を開いたすごい人ですね。
 先生：密教を伝えたお坊さんとして知られていますが、実に天才的な人ですね。仏教の教えばかりでなく、優れた書家でもあり、満濃池を改修した土木技術、さらには学校の設立など、あらゆることにひいでた人でした。
 I子：でも、空海さんはその才能をどうやって身につけたのですか。不思議ですね。
 先生：空海さんは、青年時代に、当時世界で最も進んでいた中国に留学して仏教を学びました。驚くべきことですが、ふつうは何十年もかかる仏教の修業内容をわずか2年余りでマスターして、密教の先生である恵果和尚から、後継者に指名されたようです。
 I子：とても信じられません。
 先生：もちろん、空海さんだって、留学期間内ですべてをマスターしたわけではありません。空海さんは、10代の時、役人になろうと今で言う大学に入りましたが、仏教の教えを知って中退し、独学で仏教を学んだそうです。その途上で、四国の各地で厳しい修業をしたと言われています。
 I子：そういえば、最澄さんも同じ頃に活躍したお坊さんでしたね。小学校の歴史で学びました。
 先生：実は、最澄さんも同じ時に留学生として中国に派遣されました。この時は、最澄さんは、国を代表するような留学生でしたが、空海さんはこの時点では無名の人でした。
 I子：そんな空海さんが、なぜ帰国後は日本の仏教を変えるほどの偉大なお坊さんになれたのでしょうか。
 先生：そうですね。その秘密は、空海さんが中国から持ち帰った密教という新しい仏教の教えにあったようです。当時は、疫病やききんなどによって人々は苦しみ、不安のなかで、この世での救いを求めていました。しかし、当時の仏教は、仏典の解釈や研究が中心で、人々の願いにかなうものではなかったようです。だからこそ、空海さんや最澄さんは、人々の願いにかなう新しい仏教を求めました。それが、密教であったというわけです。正式な密教を学んだのは、空海さんでした。最澄さんは、留学中にその教えの大切さを知り、帰国後この密教を空海さんから教えてもらっています。
 I子：仏教の歴史にとっては、二人は、とても重要な人なのですね。
 先生：そうですね。最澄さんの建立した延暦寺は、鎌倉時代に生まれた各宗の開祖が修業した道場で、日本の歴史の中でずっと大きな影響力を与えてきました。
 I子：このお坊さんたちが中国に留学して学んだように、私も将来留学して、日本にとって大切な何かを学びたいですね。今、中国との関係は、これからの国際社会にとってとても重要に思えます。
 先生：世界各国で、グローバルな社会づくりが進んでいますが、そこで生きる者としては、国との関係においてもお互いがしっかりと学びあい良い関係づくりに努めることが、大切だと考えています。

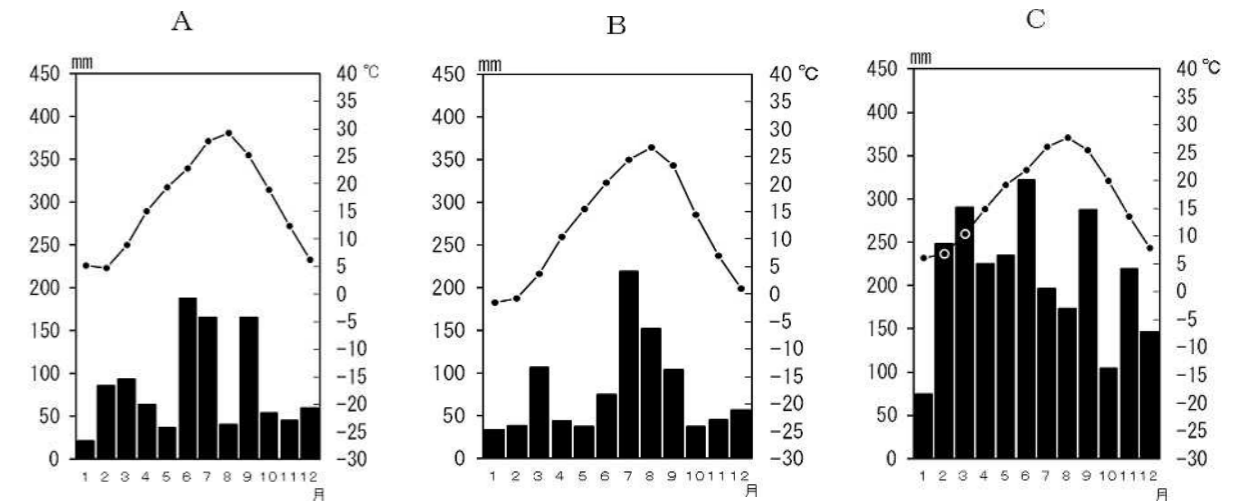
問1 下線部 について、この池は、空海の出身地である讃岐地方にあると言われます。この讃岐地方について、以下の各設問に答えなさい。

(1) この讃岐地方とは現在の何県にあたりますか。 地図
 県名とともに、その位置を地図のA～Dから一つ選び、記号で答えなさい。

県名	県	記号



(2) この地方の気候について、次の雨温図のA～Cからあてはまるもの一つを選び、記号で答えなさい。また、そこから読み取れる気候の特徴を簡単に説明しなさい。



「気象庁 2012年データ」より作成

記号	説明

(3) (2)の特徴からなぜこの地域でこうした池が作られましたか、考えられる理由を説明しなさい。

(4) (2)で説明した気候の特徴から、この地域ではある食べ物が作られるようになりまし。現在でもこの県の名物となっている食べ物とは何ですか、答えなさい。

問2 下線部 について、以下の各設問に答えなさい。

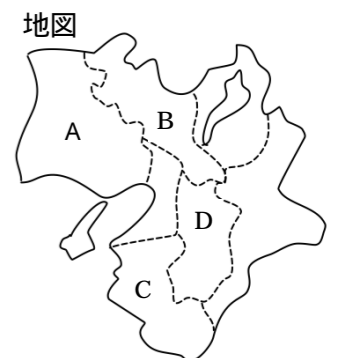
(1) 当時の中国は何と呼ばれていましたか、国名を答えなさい。

(2) 当時、中国の都と西のローマ帝国の都を結ぶ国際的な貿易や文化交流の道が開けていました。この道の名前を何といいますか、答えなさい。

問3 下線部 について、空海が修業した四国の各地ではこの人にちなんで数多くのお寺が建てられ、全国から多くの人がお参りの旅に訪れています。こうした参拝者は何と呼ばれていますか、答えなさい。

問4 下線部 について、空海が始めた密教は、何宗として知られていますか、宗派の名を答えなさい。また、空海が建てた高野山金剛峯寺がある府県の場所を、地図のA～Dから一つ選び、記号で答えなさい。

	記号



問5 下線部 について、空海が生きていた当時、富士山が大爆発をおこし、人々は大きな不安におそわれたと言われます。さて、この富士山は、2013年にある遺産に認められました。それは何ですか、次のア～エから一つ選び、記号で答えなさい。

- ア ユネスコ世界自然遺産
- イ ユネスコ世界文化遺産
- ウ 世界ジオパーク
- エ 重要文化財

2015年度 B日程 社会 その2

問6 下線部 について、こうした仏教は、南都六宗と呼ばれ大きな勢力を築いていました。こうした宗派にあてはまらない寺院を、次のア～エから一つ選び、記号で答えなさい。

ア 興福寺 イ 東大寺 ウ 唐招提寺 エ 東寺

問7 下線部 について、以下の各設問に答えなさい。

(1) 最澄が始めた仏教は、何宗と呼ばれていますか、宗派の名を答えなさい。

(2) 最澄の建立した寺院は、何という山の中に建てられましたか、その山の名を答えなさい。

(3) 次のア～ウの僧は、鎌倉時代に新しい宗派を始めましたが、それぞれ何宗を始めたかを答えなさい。

ア 栄西 イ 親鸞 ウ 一遍

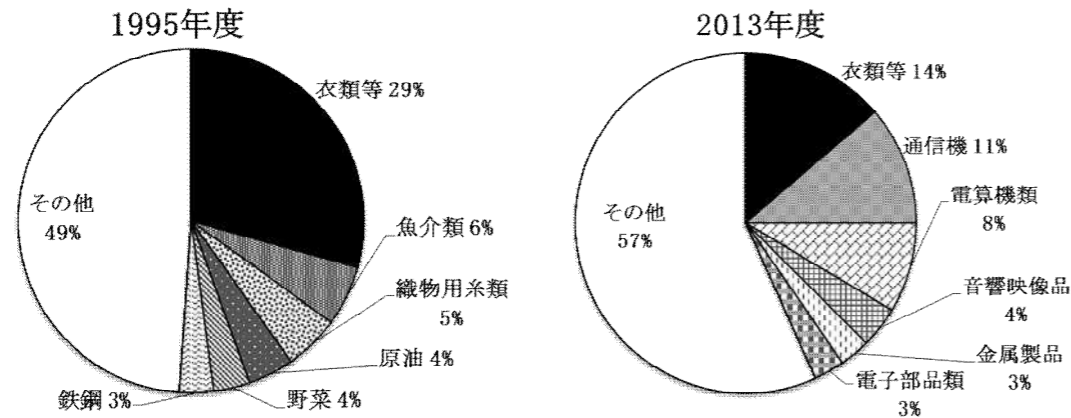
ア	イ	ウ
---	---	---

問8 下線部 について、以下の各設問に答えなさい。

(1) 中国と日本との関係を説明した次の文について誤っているものが二つあります。次のア～オから二つ選び、記号で答えなさい。

- ア 日本は中国から仏教や儒教などを学んだ。
- イ 平清盛は、現在の神戸港に近い大輪田泊という場所で、中国との貿易を行った。
- ウ 日本は、かつて二度にわたって中国に攻められ、そのために多くの人が中国に連行されていった。
- エ 日本は、明治時代のはじめに、欧米と同じような条約を中国と結んだ。
- オ 日本は、かつて中国の東北部において、満州国という国を建てた。

(2) 次のグラフ(財務省貿易統計より作成)は、1995年度と2013年度の中国から日本への輸入品目の割合を示したものです。この資料を見て、以下の各設問に答えなさい。



a) この二つの年度を比較して、中国から日本への輸入品について、どのような変化が見られますか、簡単に述べなさい。

b) 近年中国は、経済が大きく変化しています。次のことばを必ず用いて、近年の中国の経済のようすについて、説明しなさい。

(「世界の工場」 安い賃金 工業製品)

問9 下線部 について、グローバル社会が進むことで起こっている出来事について、以下の各設問に答えなさい。

(1) 下の地図 を参考にして、以下の各設問に答えなさい。

a) 現在、国境を越えて環境の汚染が問題になっていますが、昨年大陸から日本に飛来して、その影響が心配されている物質は何と呼ばれていますか、答えなさい。また、その発生地域を地図 のA～Dから一つ選び、記号で答えなさい。

b) 現在、新型インフルエンザの流行など世界的な感染症の発生が心配されていますが、昨年から大きな流行となり今なお多くの死者を出しつつある病気は何ですか、答えなさい。また、その流行地域を地図 のA～Dから一つ選び、記号で答えなさい。

c) 現在、世界のいくつかの地域で大きな紛争がおり、世界の平和の維持に大きな影響が生まれています。昨年この国では、東部の地域の武装勢力がロシアと結んで独立しようとして戦いがおり、マレーシアの航空機がその犠牲となりました。この国は何という国ですか、答えなさい。また、その国のある地域を地図 のA～Dから一つ選び、記号で答えなさい。

地図



(2) グローバル社会が進む中で、さまざまな民族のさまざまな文化を受け入れて社会づくりを進めていこうとする多文化主義の考え方が広がりつつありますが、この多文化主義について以下の各設問に答えなさい。

a) この考え方を積極的に取り入れて、社会の発展を目指そうとしている国にあたらないものを、次のア～エから一つ選び、記号で答えなさい。

ア カナダ イ ニュージーランド ウ インド エ オーストラリア

b) こうした多文化主義を積極的に取り入れようとする理由として、どんなことが考えられますか。次のことばを必ず用いて、説明しなさい。(移民 経済)