

受験番号

2015年度 A日程 社会 その1

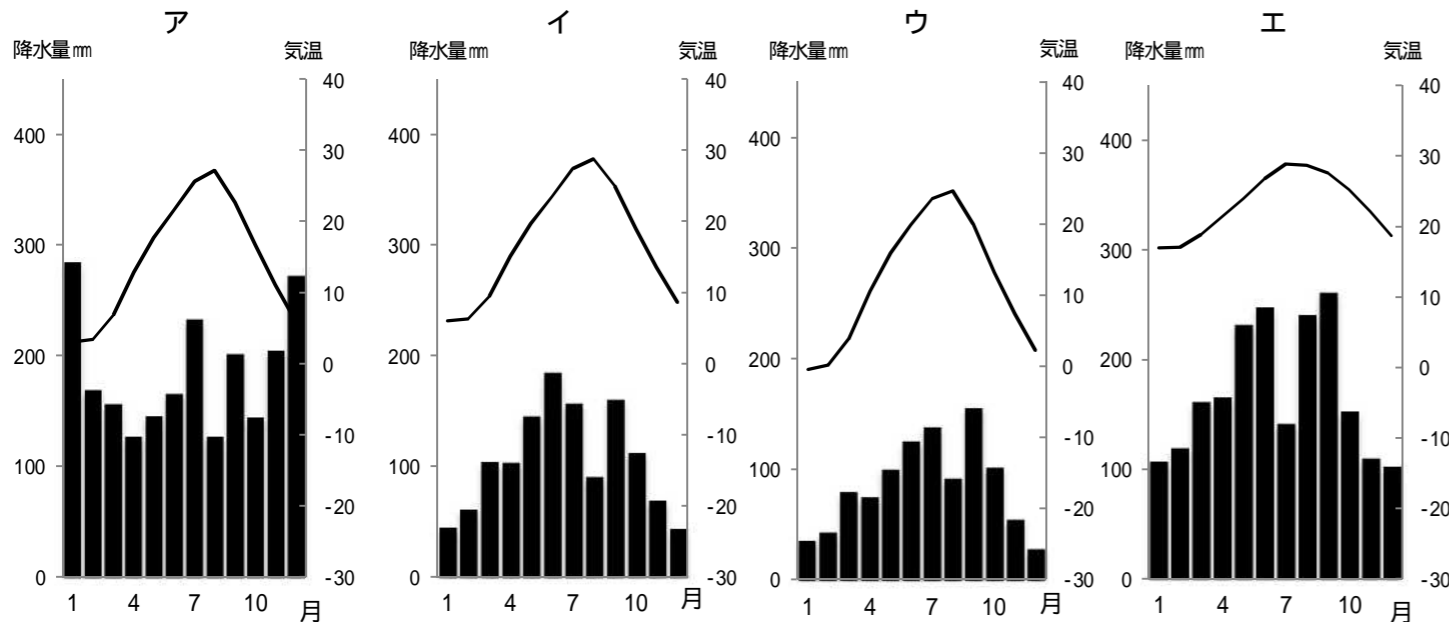
問 次の文は、K子さんが大阪府について調べた結果を先生に話すところです。以下の設問に答えなさい。

K子：先生こんにちは。私はこの前、大阪府についていろいろ調べてきました。
 先生：勉強家ですね。どのようなことを調べたのか教えてください。
 K子：はい。まず 大阪の自然についてですが、大阪府は位置的な関係から(1)気候の一部であることを知りました。これについて明らかにするために 雨温図を作って他の地域と比べてみました。
 先生：なるほど。K子さんの作った雨温図には、大阪の気候の特徴がよく表れていますね。
 K子：河川については代表的なものとして淀川と大和川などがあります。淀川にはいくつかの支流があり、中には琵琶湖を水源とする河川もあります。それらの河川は合流しながら 大阪湾に流れ込みます。江戸時代になると淀川の河口付近は 干拓工事によって水田開発が行われました。
 先生：古代には近畿地方に 都がおかれました。平安京もその一つですね。9世紀中頃には、貴族の藤原氏が政治の実権をにぎっていました。その後、朝廷の警備や貴族を守る仕事をする武芸にすぐれた(2)が現れました。後に(2)は日本の政治をにぎることになります。
 K子：わあ、勉強になりました。私は大阪の歴史についても調べました。大阪の歴史に関係のある人物に 織田信長があげられます。彼は天下統一に向け、仏教勢力を排除するために現在の大阪市にあった石山本願寺を攻め落とします。その跡地にできたのが 大阪城です。城の周囲には 堀(ほり)がめぐらされています。
 先生：大阪城のほかにも様々な施設が存在しています。そのなかには市役所があります。市役所は 地方公共団体の事務に関するお仕事を担当しています。例えば、住民の生活に関わることがあげられるでしょう。また市役所は、災害発生時に対応する役割も担っているのですよ。
 K子：市役所のお仕事は私達の生活に多くの関わりがあるんですね。先生、私は大阪の工業についても調べました。沿岸部に工場が多くみられ、阪神工業地帯の一部となっています。最後に、大阪市は世界各国の都市と姉妹都市の関係を結んでいます。その例として オーストラリアのメルボルンと姉妹都市を結んでいます。
 先生：がんばりましたね。次は他の地域についても調べてみましょう。分からないところは質問に来てくださいね。
 K子：はい！よろしくおねがいします。

問1 下線部 について(1)に入る語句を答えなさい。

気候

問2 下線部 について大阪市のものを、次のア～エから一つ選び、記号で答えなさい。



(理科年表から作成)

問3 下線部 について、琵琶湖から出た河川が、その他の支流と合流しながら淀川となり流れていく府県を、次のア～エから一つ選び、記号で答えなさい。

- ア 滋賀県 奈良県 大阪府
- イ 奈良県 京都府 大阪府
- ウ 京都府 滋賀県 大阪府
- エ 滋賀県 京都府 大阪府

問4 下線部 のように、おもに江戸時代に行われた、水田などの耕地を開発することを何といいますが、答えなさい。

問5 下線部 について以下の設問に答えなさい。

(1) 平安京をつくった天皇はだれですか。次のア～エから一つ選び、記号で答えなさい。

- ア 聖武天皇
- イ 桓武天皇
- ウ 推古天皇
- エ 後醍醐天皇

(2) 平安京の都市は、東西南北を走る道路が直角に交わる形をしています。どの都市を参考にしたものか、次のア～エから一つ選び、記号で答えなさい。

- ア イタリアのローマ
- イ タイのバンコク
- ウ フランスのパリ
- エ 中国の長安

(3) 文中の(2)にあてはまる語句を答えなさい。

問6 下線部 について以下の設問に答えなさい。

(1) 織田信長は天下統一にむけて室町幕府を滅ぼしました。その時の幕府の将軍はだれですか。次のア～エから一つ選び、記号で答えなさい。

- ア 足利尊氏
- イ 足利義政
- ウ 足利義満
- エ 足利義昭

(2) 織田信長が自由な商業活動がしやすいよう、市場の税をなくし、座の特権を廃止した政策を何といいますか。

(3) 織田信長が仏教の勢力と対抗するために保護した宗教名を答えなさい。

問7 下線部 について以下の設問に答えなさい。

(1) 1585年に大阪城を建てた人物名を答えなさい。

(2) 右の資料は(1)の人物が、農民の一揆を防止し、農業に専念させるのを目的に出した決まりの一部です。この決まりの名称を答えなさい。

— 農民が刀・弓・やり・鉄砲、そのほかの武器を持つことをかたく禁止する。
 — 農民は、農具だけをもって耕作にせいをせせば、子孫の代まで末永く幸せである。

(3) (1)の人物が、年貢をとる基準を明らかにするために、全国の田畑の面積や収穫高などを調べたことを何といいますか、答えなさい。

(4) 下線部 について、城の周囲に堀がつくられた理由を簡単に説明しなさい。

受験番号

2015年度 A日程 社会 その2

(5) 江戸時代になると、徳川家康が天下をとり、江戸幕府をひらいて全国の大名を支配しました。その結果、西日本では外様大名が各国を支配するようになりました。そのときに大阪城が果たした役割を説明しなさい。

[Blank box for answer to question 5]

問8 下線部 について、以下の設問に答えなさい。

- (1) 地方公共団体において、そこに住む人々が政治に参加し、自分たちの意志に基づいて願いを実現していくことを何といひますか。 [Blank box]
- (2) 地方公共団体の住民に関わる重要な政策を決める際、住民の意見を直接問うために行われる投票を何といひますか。 [Blank box]
- (3) 下線部 について、地方公共団体の仕事に当てはまらないものを、次のア～エから一つ選び、記号で答えなさい。
ア 消防 イ ごみの処理 ウ 発電所の維持管理 エ 道路の整備 [Blank box]
- (4) 地方公共団体の政治は、議会の議員と首長によって行われています。市町村長の被選挙権は何歳ですか、次のア～エから一つ選び、記号で答えなさい。
ア 18歳 イ 20歳 ウ 25歳 エ 30歳 [Blank box]

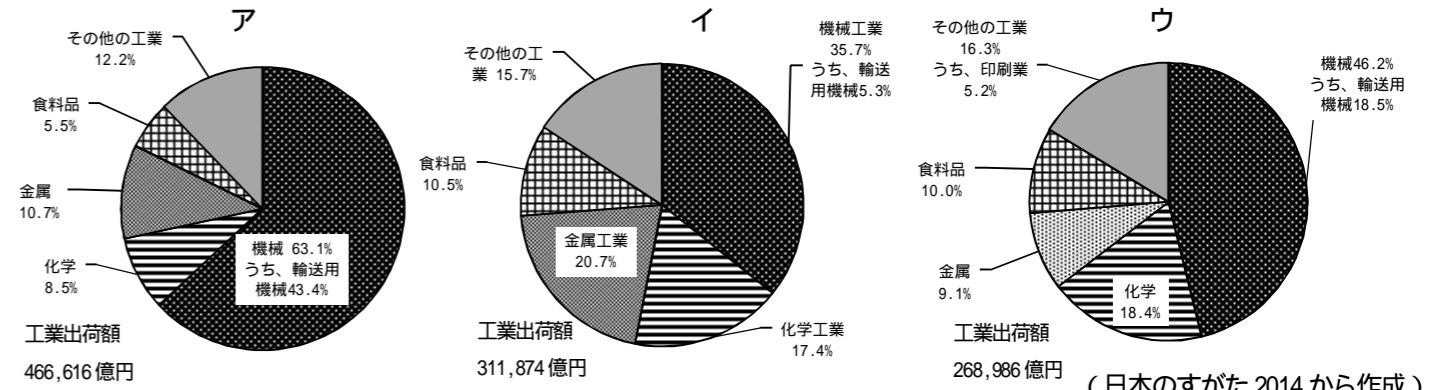
問9 下線部 について、以下の設問に答えなさい。

- (1) 2014年9月27日、長野県と岐阜県の県境に位置する山が噴火しました。その山として正しいものを、次のア～エから一つ選び、記号で答えなさい。
ア 有珠山(うすざん) イ 三原山(みはらやま)
ウ 御嶽山(おんたけさん) エ 剣岳(つるぎだけ) [Blank box]
- (2) 自然災害等を予測するとともに、住民の避難場所などを記した地図を何といひますか。 [Blank box]
- (3) 自然災害等の発生後、自ら進んで社会に奉仕することを何といひますか、カタカナで答えなさい。 [Blank box]
- (4) 初夏のころ、北海道から東北地方にかけて吹く「やませ」と呼ばれる風があります。この風が起こす災害名を答えなさい。 [Blank box]

問10 下線部 について、以下の設問に答えなさい。

- (1) 大阪湾沿岸に工場が多く見られる理由を説明しなさい。
[Blank box]

(2) 次の図は京浜工業地帯、中京工業地帯、阪神工業地帯を表わすグラフです。このうち、阪神工業地帯に当たるものを、次のア～ウから一つ選び、記号で答えなさい。



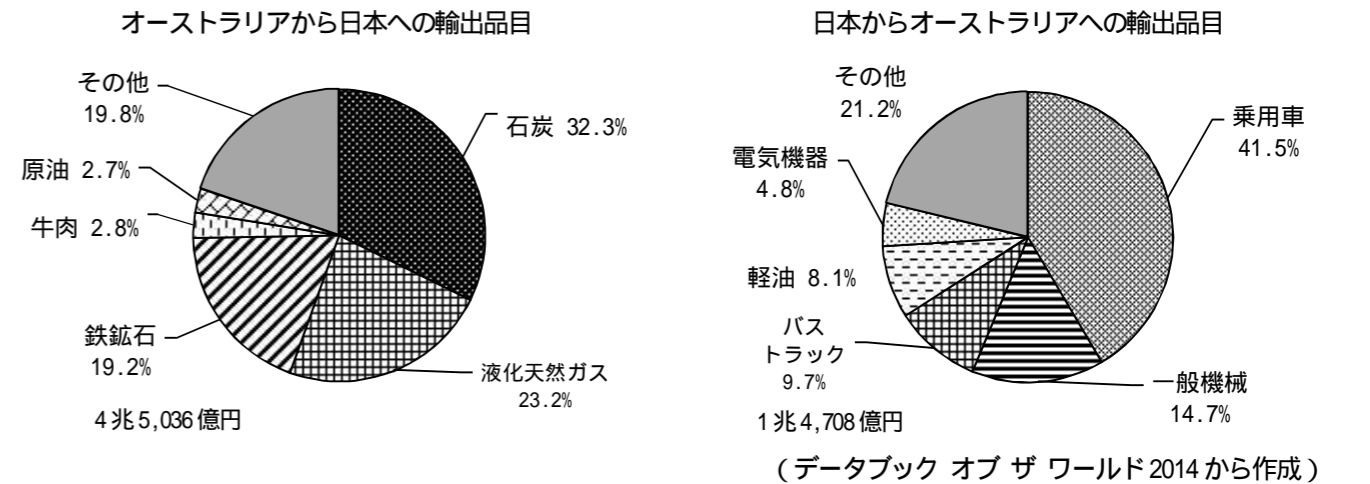
(3) (2)のアのグラフの工業機械のうち、主要な機械は何か答えなさい。 [Blank box]

問11 下線部 に関する以下の設問に答えなさい。

- (1) オーストラリアの首都名を、次のア～エから一つ選び、記号で答えなさい。
ア シドニー イ アデレード ウ キャンベラ エ パース [Blank box]
- (2) 右のオーストラリアの国旗には、ヨーロッパの国の国旗が見られます。その国名を答えなさい。 [Blank box]
- (3) (2)の国や国旗から考え、オーストラリアで広く使用されている言語を一つあげなさい。 [Blank box]
- (4) オーストラリア大陸の広さは769万 km²です。一方、日本列島の面積は38万 km²です。オーストラリア大陸は日本列島の約何倍の広さであるか答えなさい。(小数第一位以下は切り捨てなさい) [Blank box]



(5) 下の図はオーストラリアと日本との貿易の様子を示したグラフです。オーストラリアの輸出入の特徴について説明しなさい。



[Blank box for answer to question 11(5)]